

PROBLEMES_1



CICLE INICIAL

Consol Anguila

No és digne d'homes excel·lents perdre, com esclaus, hores i hores fent càlculs que, amb facilitat, un qualsevol podria fer per mitjà de màquines".

Gottfre Leibniz, filòsof alemany, físic, matemàtic (1646 - 1716)

A quin costat n'hi ha més?



Si cada nena ha caçat 2 papallones,
quantes papallones tindran entre totes?



TOTHOM AL SEU LLOC:

. DALT-BAIX

. ESQUERRE -DRETA



↓ FRANCESC



← NÚRIA




→ IRINA



← JORDI

Quina posarem a continuació ?



A



B

LA PAPALLONA VOLA DE FLOR EN FLOR, sense repetir-ne cap.



La Neus diu : - hi ha 4 papallones.



- Què li podem dir a la Neus?